

Шифр участника _____

ЗАДАНИЯ ДЛЯ ОБУЧАЮЩИХСЯ
Время выполнения заданий – 45 минут
Максимальное количество баллов – 100 баллов

Задание 1. Максимальный балл за задание – 8.

Соотнесите периоды древнейшей истории и их приблизительную датировку.

Запишите буквы в таблицу, под которой он указан.

Приблизительная датировка	Период древнейшей истории
1 Полтора миллиона лет назад	А) появление первых стоянок древнейших людей на территории современной России
2 Полмиллиона лет назад	Б) начало использования древнейшими людьми огня
3 Сто тысяч лет назад	В) появление первых людей современного типа
4 Сорок тысяч лет назад	Г) начало последнего ледникового периода

Ответ:

1	2	3	4

Задание 2. Максимальный балл за задание – 15.

По какому принципу образованы ряды?

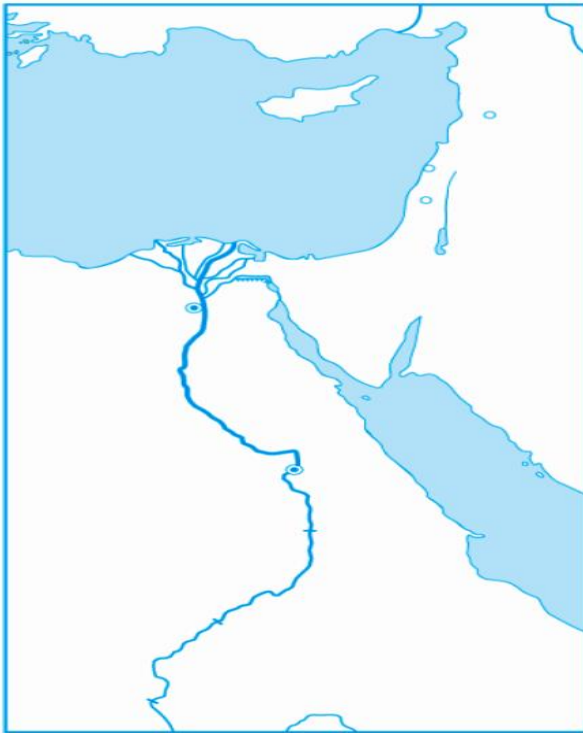
1. Шерстистый носорог, мамонт, пещерный медведь _____
2. Земледелие, скотоводство, ремесло _____
3. Духи, идолы, молитвы _____
4. Анубис, Осирис, Гор _____
5. Дубина, каменное рубило, палка-копалка _____

Задание 3. Максимальный балл за задание – 6.

На контурной карте Египта:

1. Напишите названия морей, омывающих Египет.
2. Напишите название главной реки Египта.
3. Напишите, как называется материк, на котором расположен Египет.

Шифр участника _____

**Задание 4. Максимальный балл за задание – 8.****Установи соответствие между понятиями и их определениями.**

Понятия	Определения понятий
1 Папирус	А) Сплав меди и олова
2 Бронза	Б) Усыпальница царей Египта и членов их семей
3 Шадуф	В) Песчий материал
4 Пирамида	Г) Приспособление для полива садов и огородов

Ответ:

1	2	3	4

Задание 5. Максимальный балл за задание – 8.

1. Отметьте на «линии времени» 753 г. до н.э., 73 г. до н.э., 490 г. до н.э., 1147 г. н.э., 476 г. н.э., 1945 г. н.э.?

_____ / _____
До нашей эры **Наша эра**

Шифр участника _____

1. Древнейший гроб.
2. Бог, хранитель мертвых с головой шакала.
3. Учёный, открывший гробницу Тутанхамона.
4. Правитель Египта.
5. Государство в Северо-Восточной Африке.
6. Фараон, правивший всего 6 лет, но известный всему миру.
7. Тело умершего, пропитанное смолой и обмотанное бинтами.
8. Место нахождения гроба фараона.
9. Учёные, производящие раскопки.
10. Амулет, обозначающий жизнь, спрятанный между слоями полотен фараона Тутанхамона.

Задание 7. Максимальный балл за задание – 10.**Соотнесите имена египетских богов и их характеристики.**

Характеристика египетского бога	Египетский бог
1 Богиня истины, справедливости и гармонии.	А) Амон
2 Покровитель земледелия, садоводства, а также царь загробного мира.	Б) Осирис
3 Бог мудрости и знаний.	В) Маат
4 Бог солнечного диска	Г) Сет
5 Бог Солнца и покровитель города Фивы.	Д) Тот
6 Бог песчаных бурь, хаоса и войны.	Е) Гор
7 Богиня любви, плодородия и женской красоты.	Ж) Апис
8 Священный бык, сын богини неба Нут.	З) Анубис
9 Покровитель земных фараонов	И) Атон
10 Проводник в умерших в царство мёртвых	К) Бастет

Соответствующие буквы ответов внеси в таблицу.**Ответ:**

1	2	3	4	5	6	7	8	9	10

Шифр участника _____

Задание 8. Максимальный балл за задание – 8.

Прочитайте текст и вставьте пропущенные слова.

Завоевательные походы египетских фараонов стали особенно успешны после появления важного изобретения в области военного снаряжения – запряжённой конями А) _____, позволившей воинам быстро передвигаться на большие расстояния и внезапно атаковать противника. Ещё в эпоху Древнего царства Египет стремился покорить богатую золотыми рудниками Б) _____ на юге. В эпоху Нового царства, помимо этой области, египетские войска покорили В) _____ на западе, богатый медными рудниками Г) _____ полуостров, а затем, вторглись в Азию, завоевали Д) _____, Е) _____ и Ж) _____, дойдя до реки З) _____.

Ответ:

А)	Д)
Б)	Е)
В)	Ж)
Г)	З)

Задание 9. Максимальный балл за задание – 12.

Расположите ремесленные изделия в хронологическом порядке их появления.

- А. глиняная посуда
- Б. литые медные орудия труда
- В. деревянная посуда
- Г. кованные медные орудия труда
- Д. бронзовые орудия труда
- Е. золотые и серебряные украшения

Ответ:

1	2	3	4	5	6



Задание 10. Максимальный балл за задание – 15.

На фотографиях изображены памятники архитектуры и скульптуры города Омска. Определите их название. Напишите год возведения каждого памятника.

Шифр участника _____

А)	 A large, modern monument with a white, angular, geometric structure. In the center, there are bronze statues of five figures, likely representing heroes of the Patriotic War, standing on a raised platform. The background is a clear blue sky.	Название: Год возведения:
Б)	 A large, dark, spherical sculpture with a horizontal band of relief carvings. It is situated in an urban square with buildings in the background. A person in a blue outfit is visible near the base of the sphere.	Название: Год возведения:
В)	 A grand, classical-style building with a green and white facade. It features a central dome, arched windows, and a prominent entrance. Several flags are flying on poles in front of the building. A sign above the entrance reads 'АКАДЕМИЯ'.	Название: Год возведения:

Шифр участника _____

Г)		Название: Год возведения:
Д)		Название: Год возведения: